



# **Concurso Público para Servidor Técnico-Administrativo UFBA e UFRB 2008.2**

# **2 Nível Superior**



UNIVERSIDADE FEDERAL DA BAHIA • PROGRAD/SSOA  
Rua João das Botas, nº 31 - Canela • CEP: 40110-160  
Salvador - Bahia - Brasil • Telefax: (71) 3283-7820  
[www.concursos.ufba.br](http://www.concursos.ufba.br) • [ssoa@ufba.br](mailto:ssoa@ufba.br)

---

# INSTRUÇÕES

Para a realização destas provas, você recebeu este Caderno de Questões e uma Folha de Respostas.

## 1. Caderno de Questões

- Verifique se este Caderno de Questões contém as seguintes provas:  
PORTUGUÊS — Questões de 01 a 30  
ADMINISTRAÇÃO PÚBLICA — Questões de 31 a 60  
CONTEMPORANEIDADE — Questões de 61 a 70  
INFORMÁTICA BÁSICA — Questões de 71 a 90  
MATEMÁTICA — Questões de 91 a 100
- Qualquer irregularidade constatada neste Caderno de Questões deve ser imediatamente comunicada ao Fiscal de sala.
- Neste Caderno, você encontra apenas um tipo de questão: objetiva de proposição simples. Identifique a resposta correta, marcando na coluna correspondente da Folha de Respostas:

V, se a proposição é verdadeira;

F, se a proposição é falsa.

**ATENÇÃO:** Antes de fazer a marcação, avalie cuidadosamente sua resposta.

### LEMBRE-SE:

- A resposta correta vale 1 (um), isto é, você ganha 1 (um) ponto.
- A resposta errada vale – 1 (*menos um*), isto é, você **não ganha** o ponto e ainda **tem descontado** o ponto que ganhou em outra questão.
- A ausência de marcação e a marcação dupla ou inadequada valem 0 (zero). Você **não ganha nem perde nada**.

## 2. Folha de Respostas

- A Folha de Respostas é pré-identificada; confira os dados registrados no cabeçalho e assine-o com caneta esferográfica de tinta **PRETA**. Não ultrapasse o espaço reservado para esse fim.
- **NÃO AMASSE, NÃO DOBRE, NÃO SUJE, NÃO RASURE ESSA FOLHA DE RESPOSTAS.**
- A marcação da resposta deve ser feita preenchendo-se o espaço correspondente com caneta esferográfica de tinta **PRETA**. Não ultrapasse o espaço reservado para esse fim.

Exemplo da Marcação  
na Folha de Respostas

01	<input checked="" type="radio"/>	<input type="radio"/>
02	<input type="radio"/>	<input checked="" type="radio"/>
03	<input checked="" type="radio"/>	<input type="radio"/>
04	<input checked="" type="radio"/>	<input type="radio"/>
05	<input type="radio"/>	<input checked="" type="radio"/>

- O tempo disponível para a realização das provas e o preenchimento da Folha de Respostas é de 4 (quatro) horas.
-

---

## PROVA DE PORTUGUÊS

### QUESTÕES de 01 a 30

#### INSTRUÇÃO:

Para cada questão, de **01** a **30**, marque na coluna correspondente da Folha de Respostas:

**V**, se a proposição é verdadeira;

**F**, se a proposição é falsa.

A resposta correta vale 1 (um); a resposta errada vale -1 (menos um); a ausência de marcação e a marcação dupla ou inadequada valem 0 (zero).

### QUESTÕES de 01 a 24

#### TEXTO:

Na sociedade do capitalismo global, observa-se um recrudescimento de tendência totalitária em razão do avanço das forças produtivas e das relações de produção que acirram a contradição do desenvolvimento tecnológico atrelado à reprodução da miséria e das desigualdades sociais. Nessa realidade, a subjetividade

5 – é deglutida pela modernidade e pela tecnologia, a razão individual dissolve-se na lógica da razão instrumental, e os valores éticos e estéticos perdem os seus fundamentos racionais. O que passa a valer é unicamente o esforço de autoconservação. O progresso tende a combinar os altos índices econômicos com elevados índices de marginalização de indivíduos das atividades produtivas

10 – organizadas, excluindo-os, ou melhor, incluindo-os na vida em sociedade de forma marginal.

[...]

Nessas condições, a sociedade deixa de servir para a proteção do sujeito. O aumento dos problemas sociais, como o avanço da delinqüência, impede o sujeito de buscar responsáveis e vive-se em um estado de medo, que fomenta o preconceito e

15 – a intolerância. Geralmente é sobre o jovem que recai o desdobraimento desse medo, a raiva, e, ideologicamente, a sociedade procura justificar essas atitudes. A sociedade generaliza a situação e passa a julgar qualquer jovem pobre que vive na periferia. No entanto, é importante frisar: nem todo jovem que mora na periferia está envolvido no tráfico. As conseqüências de tal situação são desastrosas.

20 – Os jovens passam a atores e vítimas da violência. A relação de dominação perpassa o cotidiano desses jovens que buscam no grupo e, muitas vezes, no tráfico de drogas, um lugar de destaque. Reproduzem, na cultura do tráfico de drogas, a relação de dominação a que são submetidos na sociedade em geral.

---

Como pensar a construção das subjetividades de jovens que desde muito cedo  
25 – são rotulados e sobrevivem apesar dos clichês, dos estereótipos de pobres, negros, perigosos?

[...]

Os jovens passam a ser associados à rebeldia, condição que é acirrada, quando alguns grupos juvenis expressam atitudes que podem ressignificar normas e padrões sociais vigentes. A um só tempo, o jovem aparece como retrato projetivo da sociedade,  
30 – condensando angústias, medos, assim como esperanças em relação às tendências sociais percebidas no presente e aos rumos que essas tendências imprimem para a conformação social futura. A sociabilidade do jovem está totalmente relacionada à contemporaneidade.

Os jovens pertencentes às classes subalternas vivem em dupla situação de  
35 – risco, pois, vivendo uma socialização incompleta, têm poucas oportunidades de integração no mercado de trabalho, aspecto reforçado pela baixa escolaridade; assim, são alvos fáceis para as drogas e o álcool, e, quando surpreendidos cometendo infrações, a reprimenda pode custar-lhes a vida. Para os jovens da periferia, crescer é uma empreitada que ele deve enfrentar sozinho, um salto no escuro.

ABRAMOVAY, M.; FEFFERMANN, M. Se ficar o bicho come, se correr... **Sociologia Especial**: ciência & vida, São Paulo, ano 1, n. 2, 2007. p. 46-49.

## Questão 01

Cada vez mais a sociedade capitalista globalizada produz desigualdades sociais e miseráveis.

## Questão 02

O jovem, na sociedade competitiva, tem seus direitos preservados pelo Estado.

## Questão 03

O jovem é um ser vulnerável no contexto da sociedade capitalista.

## Questão 04

A prática de atos contestadores pelos jovens significa uma forma de buscar a sua identidade social.

## Questão 05

O fato de, na sociedade competitiva, não haver lugar para todos tem levado o jovem a práticas sociais violentas.

## Questão 06

O indivíduo do mundo contemporâneo preserva a sua subjetividade, quando se deixa envolver pelos valores da sociedade capitalista.

---

## Questão 07

O estigma que marca o cidadão jovem da periferia é consequência de seu medo do poder estabelecido.

## Questão 08

A idéia predeterminada que a sociedade tem em relação ao jovem das camadas sociais menos favorecidas é produto de um contexto sociocultural preconceituoso.

## Questão 09

O texto é constituído de procedimentos argumentativos que se fundamentam em outras opiniões nele explicitadas.

## Questão 10

O processo argumentativo do texto se define a partir de um encadeamento de causas seguidas de suas implicações e explicações.

## Questão 11

O **segundo parágrafo** do texto constitui um processo argumentativo que apresenta as consequências da realidade que foi exposta no primeiro.

## Questão 12

O **quarto parágrafo** traz, implícita, a idéia de que um ser humano estigmatizado pode apresentar feridas internas, espirituais.

## Questão 13

No primeiro período do texto, usa-se a vírgula para separar um termo adverbial deslocado na frase.

## Questão 14

No respectivo contexto, as formas verbais “é deglutida” (l. 5), “dissolve-se” (l. 5) e “perdem” (l. 6) remetem a um mesmo sujeito.

## Questão 15

Em “**O** que passa a valer é unicamente o esforço de autoconservação.” (l. 7-8), o termo “**O**” (l. 7) é modificador do nome.

---

## Questão 16

A assertiva “incluindo-os na vida em sociedade de forma marginal.” (l. 10-11) constitui uma paráfrase do que antes se declara no mesmo período.

## Questão 17

No trecho “impede o sujeito de buscar responsáveis e vive-se em um estado de medo” (l. 13-14) o “e” opera uma relação de oposição entre duas afirmações.

## Questão 18

A assertiva “nem todo jovem que mora na periferia está envolvido no tráfico.” (l. 18-19) contém uma idéia de restrição.

## Questão 19

As formas verbais “perpassa” (l. 21) e “buscam” (l. 21) estão empregadas como intransitivas.

## Questão 20

O fragmento “e, muitas vezes, no tráfico de drogas” (l. 21-22), no contexto em que se encontra, pode ser considerado como uma suposição.

## Questão 21

Os termos “assim como” (l. 30) e “assim” (l. 36) exercem, no texto, a mesma função morfossintática.

## Questão 22

A frase “Os jovens pertencentes às classes subalternas vivem em dupla situação de risco” (l. 34-35), expressa uma comparação implícita entre a realidade vivida pelos jovens das classes subalternas e os das camadas sociais privilegiadas.

## Questão 23

O trecho “quando surpreendidos cometendo infrações, a reprimenda pode custar-lhes a vida.” (l. 37-38) contém uma relação circunstancial de causa e consequência.

## Questão 24

A última frase do texto, “Para os jovens da periferia, crescer é uma empreitada que ele deve enfrentar sozinho, um salto no escuro.” (l. 38-39), apresenta um raciocínio contraditório.

---

## QUESTÕES de 25 a 30

TEXTO:

Chega um tempo em que não se diz mais: meu Deus.

Tempo de absoluta depuração.

Tempo em que não se diz mais: meu amor.

Porque o amor resultou inútil.

5 – E os olhos não choram.

E as mãos tecem apenas o rude trabalho.

E o coração está seco.

Em vão mulheres batem à porta, não abrirás.

Ficaste sozinho, a luz apagou-se,

10 – mas na sombra teus olhos resplandecem enormes.

És todo certeza, já não sabes sofrer.

E nada esperas de teus amigos.

Pouco importa venha a velhice, que é a velhice?

Teus ombros suportam o mundo

15 – e ele não pesa mais que a mão de uma criança.

As guerras, as fomes, as discussões dentro dos edifícios

provam apenas que a vida prossegue

e nem todos se libertaram ainda.

Alguns, achando bárbaro o espetáculo,

20 – prefeririam (os delicados) morrer.

Chegou um tempo em que não adianta morrer.

Chegou um tempo em que a vida é uma ordem.

A vida apenas, sem mistificação.

ANDRADE, C. D. de. Os ombros suportam o mundo. In: COUTINHO, A. (Org.). **Carlos Drummond de Andrade**: obra completa: poesia. Rio de Janeiro: Aguilar, 1964. p. 110-111.

### Questão 25

O poema focaliza um tempo histórico em que as pessoas são movidas pela emoção e pela solidariedade.

### Questão 26

O sujeito poético faz um inventário de uma realidade adversa, mas acredita que o homem, assim mesmo, deve resistir.

### Questão 27

O poema é articulado como um direcionamento a um interlocutor hipotético.

---

### **Questão 28**

Os versos “E os olhos não choram.” (v. 5), “E o coração está seco.” (v. 7) e “Teus ombros suportam o mundo” (v. 14) simbolizam o estado de espírito do “tu” evocado pelo poeta.

### **Questão 29**

Na segunda estrofe, predomina a coordenação de orações.

### **Questão 30**

No verso 19, o elemento verbal “achando” pode ser substituído por *porque acharam*, mantendo-se a correlação temporal.



---

# PROVA DE ADMINISTRAÇÃO PÚBLICA

## QUESTÕES de 31 a 60

### INSTRUÇÃO:

Para cada questão, de **31** a **60**, marque na coluna correspondente da Folha de Respostas:

**V**, se a proposição é verdadeira;

**F**, se a proposição é falsa.

A resposta correta vale 1 (um); a resposta errada vale -1 (menos um); a ausência de marcação e a marcação dupla ou inadequada valem 0 (zero).

## QUESTÕES de 31 a 33

<b>(A)</b> <ul style="list-style-type: none"><li>• Justiça</li><li>• Segurança Pública</li><li>• Defesa Nacional etc.</li></ul>	<b>(B)</b> <ul style="list-style-type: none"><li>• Planejamento</li><li>• Orçamento</li><li>• Recursos Humanos</li><li>• Controle Interno Integrado</li></ul>
<ul style="list-style-type: none"><li>• Educação</li><li>• Saúde - Saneamento</li><li>• Transporte</li><li>• Urbanismo</li><li>• Agricultura</li><li>• Gestão Ambiental etc.</li></ul> <b>(C)</b>	<ul style="list-style-type: none"><li>• Material e Patrimônio</li><li>• Documentação</li><li>• Serviços Gerais</li><li>• Controle Interno de cada Poder</li></ul> <b>(D)</b>

Com base nas informações contidas na figura, é correto afirmar:

### Questão 31

As atividades representadas, na figura, pelas letras **B** e **D** são consideradas **atividades-meio**, porque envolvem o Estado e a sua estrutura no atendimento das necessidades da população.

---

## Questão 32

As letras **A** e **C**, na figura, representam **atividades-fim**, porque estão voltadas para o efetivo atendimento das demandas da população.

## Questão 33

As atividades representadas pelas letras **C** e **D** são consideradas **administrativas e de apoio** para dar suporte ao alcance pleno e efetivo da satisfação das necessidades da população.

## Questão 34

As agências reguladoras, as agências executivas e as organizações sociais são instituições organizacionais que emergiram, no Estado brasileiro, a partir do governo Getúlio Vargas, em 1930.

## Questão 35

A ANEEL (Agência Nacional de Energia Elétrica), a ANATEL (Agência Nacional de Telecomunicações) e a ANP (Agência Nacional de Petróleo) são exemplos de agências executivas.

## QUESTÕES 36 e 37

O Estatuto da Universidade Federal da Bahia, no seu Art.1º, estabelece:

A Universidade Federal da Bahia, criada pelo Decreto-Lei nº 9.155, de 8 de abril de 1946, e reestruturada pelo Decreto nº 62.241, de 8 de fevereiro de 1968, com sede na Cidade de Salvador, Estado da Bahia, é uma autarquia com autonomia administrativa, patrimonial, financeira e didático-científica, nos termos da lei e do presente Estatuto. (UFBA, Estatuto, 2000).

Analisando-se o referido artigo, é correto afirmar:

## Questão 36

A Universidade Federal da Bahia, por ser uma autarquia, é uma instituição de direito público resultante do processo de descentralização administrativa.

## Questão 37

A UFBA, por ter autonomia administrativa, adota regime jurídico próprio para seus servidores.

---

## QUESTÕES de 38 a 41

Considere-se o seguinte exemplo de Lei Orçamentária Anual:

RECEITA (em R\$)		DESPESA (em R\$)	
Tributária	10000	Pessoal	13000
Patrimonial	5000	Material de consumo	2000
Serviços	2000	Serviços de terceiros	5000
		Encargos da dívida	500
<b>Soma das receitas correntes</b>	<b>17000</b>	<b>Soma das despesas correntes</b>	<b>20500</b>
Operações de crédito	12000	Investimentos	8000
Alienação de bens	1000	Amortização da dívida	1500
<b>Soma das receitas de capital</b>	<b>13000</b>	<b>Soma das despesas de capital</b>	<b>9500</b>
<b>Total das receitas</b>	<b>30000</b>	<b>Total das despesas</b>	<b>30000</b>

Com base na análise dos dados apresentados, é correto afirmar:

### Questão 38

A estimativa contida no exemplo dado está ferindo o princípio orçamentário do equilíbrio, porque está cobrindo despesas correntes com receitas de capital.

### Questão 39

A receita de serviços é oriunda da arrecadação de impostos.

### Questão 40

As receitas extra-orçamentárias são as que integram o orçamento após a sua aprovação legislativa, sem compromisso de devolução ao contribuinte.

### Questão 41

O estágio de liquidação da despesa corresponde ao ato emanado de autoridade competente em empenhar o valor correspondente à despesa fixada.

---

## QUESTÕES 42 e 43

O proprietário de um restaurante descobriu, na cidade de Salvador, um terreno de Marinha, localizado num ponto estratégico que lhe possibilitaria criar uma filial de sua empresa com parques e locais de lazer para a população. Movimentou-se, então, na burocracia da prefeitura, para firmar um contrato de permissão de uso de bens públicos.

Uma reflexão sobre esse exemplo permite concluir:

### Questão 42

O contrato não pode ser firmado porque não houve edital de chamamento de interessados para escolha do melhor pretendente.

### Questão 43

O contrato de permissão de uso tem caráter permanente, sendo rompido por interesse do contratado.

### Questão 44

A prestação de serviços públicos por concessão é amparada por autorização legislativa, em cuja lei são esclarecidas as condições de execução desses serviços.

### Questão 45

Entre as condições de execução dos serviços por concessão, está a proibição da cobrança de tarifas.

## QUESTÕES de 46 a 48

A Controladoria Geral da União (CGU) tem, entre outras atribuições, o encargo de avaliar o comportamento administrativo dos órgãos supervisionados e acompanhar os custos globais dos programas setoriais do Governo.

Considerando-se também que é competência do Congresso Nacional, com o auxílio do Tribunal de Contas, a fiscalização contábil, financeira, orçamentária e patrimonial da União, pode-se afirmar:

### Questão 46

A atuação da CGU caracteriza-se como o exercício do Controle Interno estabelecido pela Constituição Brasileira.

---

### **Questão 47**

A ação do Congresso Nacional é uma atividade caracterizada pela atuação do Controle Interno das contas do governo.

### **Questão 48**

É de responsabilidade da CGU efetuar auditorias do Sistema de Controle e emitir pareceres conclusivos sobre a observação dos princípios de legalidade, de legitimidade e de economicidade.

### **Questão 49**

Os processos de tomadas e de prestação de contas são encaminhados ao Presidente da República ainda no decorrer do exercício financeiro a que se referirem os documentos comprobatórios.

### **QUESTÕES de 50 a 52**

Certa universidade firmou um convênio com o governo do Estado durante o exercício financeiro de determinado ano, para desenvolver pesquisas médicas, objetivando a descoberta de vacinas contra a dengue. Para tal, o governo repassou recursos à instituição com a finalidade de desenvolver os estudos necessários.

Considerando-se que, no final do exercício daquele ano, já havia sido paga uma parcela dos recursos para o desenvolvimento dos estudos e que parte das pesquisas já havia sido iniciada, pode-se afirmar:

### **Questão 50**

Por se tratar de recursos de convênio, o ordenador de despesas está dispensado de fazer processo de contas.

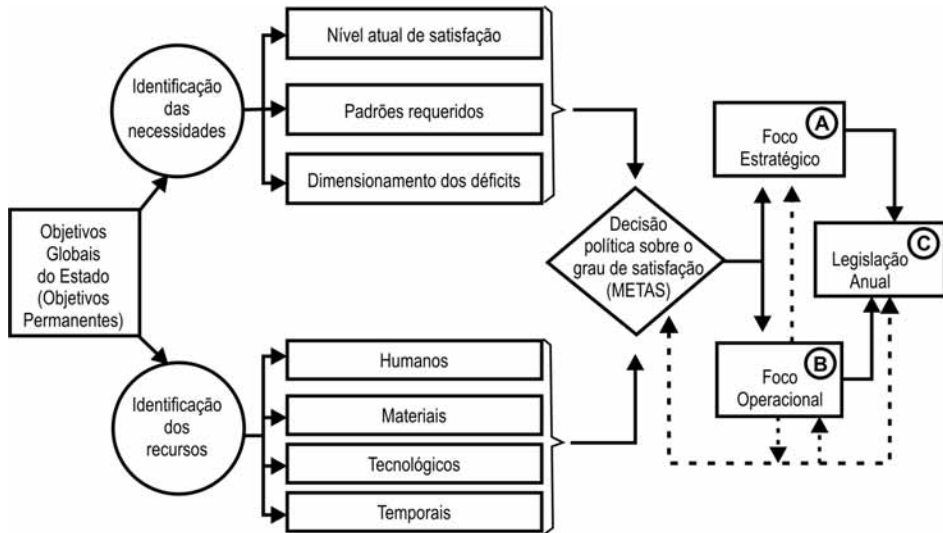
### **Questão 51**

A entrada dos recursos na universidade pode ser classificada como Receita Corrente do exercício daquele ano.

### **Questão 52**

Pela importância social do projeto, os repasses desses recursos podem ser classificados, no orçamento do governo do Estado, como inversões financeiras.

## QUESTÕES de 53 a 55



Em relação aos dados apresentados, pode-se afirmar:

### Questão 53

O foco estratégico decorrente desse processo de planejamento — representado, na figura, pela letra **A** — dá origem ao Plano Plurianual.

### Questão 54

A letra **B** representa a Lei de Diretrizes Orçamentárias, elaborada a partir de uma visão operacional, em função das metas estabelecidas para alcance da satisfação da população.

### Questão 55

A legislação, firmada anualmente, expressa pela letra **C** na figura, representa a Lei da Arrecadação Fiscal.

## QUESTÕES 56 e 57

O departamento de compras de uma instituição pública federal necessitou adquirir material de expediente. No orçamento do ano, havia sido reservada verba de despesas de custeio.

Considerando-se que, para realizar a compra, foi feito um processo licitatório, pode-se afirmar:

---

## Questão 56

No caso especificado, de acordo com a Lei nº 8666/93, o tipo de licitação adequado é o de **melhor técnica**.

## Questão 57

Por se tratar de uma instituição federal, o processo licitatório deve ter ocorrido em Brasília.

## QUESTÕES 58 e 59

Um administrador exerceu cargo de confiança, em uma universidade federal, durante dez anos, embora não pertencesse ao quadro permanente dos servidores da universidade. Como desempenhou, com eficiência, os encargos inerentes às suas funções, o Superintendente de Pessoal o efetivou.

Com base na situação descrita, é correto afirmar:

## Questão 58

Essa forma de provimento de cargo público está em desacordo com a Lei nº 8112/90, que dispõe sobre o Regime Jurídico Único dos Servidores Públicos Civis da União, das Autarquias e das Fundações Públicas Federais.

## Questão 59

A cada ano de trabalho, esse administrador terá direito a um anuênio acrescido à sua remuneração, durante o período em que trabalhou exercendo o cargo de confiança.

## Questão 60

O Dia do Servidor Público é comemorado em 15 de novembro, em decorrência de a Proclamação da República ter sido realizada por um servidor público militar do exército.

---

## PROVA DE CONTEMPORANEIDADE

### QUESTÕES de 61 a 70

#### INSTRUÇÃO:

Para cada questão, de **61** a **70**, marque na coluna correspondente da Folha de Respostas:

**V**, se a proposição é verdadeira;

**F**, se a proposição é falsa.

A resposta correta vale 1 (um); a resposta errada vale -1 (menos um); a ausência de marcação e a marcação dupla ou inadequada valem 0 (zero).

#### Questão 61

A Constituição Brasileira de 1988 garante a desapropriação de latifúndios improdutivos, com o objetivo de distribuir terras aos lavradores, mas, para a implantação de uma atividade econômica sustentável para o assentado, outras ações se fazem necessárias, como o financiamento para aquisição de máquinas agrícolas, a assistência técnica agrícola e veterinária e a possibilidade de escoamento da produção através de um sistema de transporte eficiente.

#### Questão 62



A mensagem contida na charge se refere a um problema do cotidiano do tráfego das grandes cidades brasileiras, nas quais grande número de menores de idade dirigem veículos automotivos sem carteira de habilitação, principalmente à noite, causando graves acidentes, devido à falta de educação para o trânsito e à imperícia ao volante, apesar de a legislação brasileira permitir o acesso à Carteira de Habilitação a partir dos 16 anos de idade.



---

## Questão 63

Os males do Jeca Tatu ainda assombram o Brasil. Quase um século depois de o escritor Monteiro Lobato narrar a história do preguiçoso matuto, vítima de uma doença até então negligenciada, o amarelão, boa parte das enfermidades infecciosas e parasitárias volta a preocupar as autoridades de saúde. (MARTINS, 2008, p. 199).

As doenças infecciosas, reemergentes e persistentes, que preocupam os brasileiros são, entre outras, a dengue, a malária e a leishmaniose, que deveriam estar controladas ou erradicadas, mas continuam afetando, principalmente, as populações de baixa renda que vivem nas periferias das grandes cidades e que dispõem de um sistema precário de saneamento básico.

## Questão 64

O Brasil possui um potencial energético privilegiado, e esse fato — aliado à aplicação de uma política energética baseada em maciços investimentos na produção e na modernização do sistema de transportes e da produção industrial, que passou a adotar tecnologias que não agredem o meio ambiente, — permitiu que o país atingisse, recentemente, a auto-suficiência energética, sendo o primeiro país das Américas a alcançar esse patamar.

## Questão 65

A Rússia, que, após o processo de decadência do socialismo real, ocupou o espaço da antiga União Soviética no cenário internacional como membro permanente do Conselho de Segurança da ONU e como um dos participantes do G8, juntamente com os sete países mais industrializados do mundo, tem enfrentado crises econômicas e movimentos separatistas.

## Questão 66

O grupo dos Cinco (G-5: Brasil, Índia, China, México e África do Sul) defenderá [...] em reunião ampliada do Grupo dos Oito (G-8 [...]) que a inflação de alimentos não decorre de uma demanda maior do que a oferta, mas da especulação nos mercados futuros. As potências emergentes também apontarão a crise de crédito nos EUA e seu efeito dominó sobre a valorização dos alimentos e do petróleo. [...] O presidente Lula deve fazer um último apelo ao presidente dos EUA, George Bush, de que termine seu mandato com acordo para conclusão da Rodada de Doha. (EMERGENTES..., 2008, p. A1).

O Brasil foi acusado, recentemente, de prejudicar sua produção agrícola de gêneros alimentícios em detrimento da produção de combustíveis renováveis, como o etanol, tendo em vista os problemas que o mundo enfrenta com a alta dos preços dos alimentos e, conseqüentemente, foi condenado pela ONU a pagar uma pesada multa, além de sofrer embargos, no comércio internacional, estabelecidos pelos países participantes do G8.

---

## Questão 67

O presidente do Irã, Mahmoud Ahmadinejad, declarou durante entrevista levada ao ar na televisão americana [...], que o Teerã responderia positivamente se os Estados Unidos adotassem uma abordagem genuinamente nova com relação à república islâmica. A entrevista foi concedida pouco mais de uma semana depois de os EUA terem adotado a ação sem precedentes de enviar um diplomata de alto escalão a uma reunião com o negociador-chefe do Irã, Saeed Jalili, em Genebra. (IRÃ..., 2008).

O Irã tem sido acusado, pelos Estados Unidos, de pôr em risco a paz no Oriente Médio, ao se negar a abandonar o seu programa nuclear — que, segundo seus opositores, tem objetivo bélico e coloca em risco a existência do Estado de Israel — e de apoiar os iraquianos que lutam contra a permanência do exército norte-americano no Iraque.

## Questão 68

O continente africano, mais especificamente a África subsaariana, apresenta, atualmente, um quadro de tranqüilidade interna, com o fim das disputas étnicas — que, no período que sucedeu à descolonização, foram responsáveis por inúmeros conflitos que resultariam em milhões de mortos —, e com o estabelecimento de governos democráticos empenhados em vencer a batalha contra a Aids, doença que se alastrou no continente, mas que vem apresentando uma tendência descendente graças ao sucesso de programas governamentais eficientes de prevenção e de tratamento.

## Questão 69

“É inaceitável que, depois de quase sete anos e cerca de 3000 americanos terem sido mortos aqui, os terroristas que nos atacaram no 11 de setembro continuem livres.” (OBAMA, 2008, p. 47).

O pronunciamento do candidato à presidência dos Estados Unidos, Barack Obama, refere-se ao Afeganistão, país invadido por tropas norte-americanas e que, ainda sob o regime do Taliban, foi acusado de envolvimento nos ataques às Torres Gêmeas, em Nova Iorque.

## Questão 70

As fontes naturais de abastecimento de água limpa e potável — águas de chuva, águas superficiais e águas subterrâneas — são parte fundamental do sistema ecológico e da vida humana, porém, além de ser desigual a sua distribuição nos continentes, elas vêm diminuindo devido à crescente poluição, e isso poderá vir a provocar graves problemas para a humanidade.

---

## PROVA DE INFORMÁTICA BÁSICA

### QUESTÕES de 71 a 90

#### INSTRUÇÃO:

Para cada questão, de **71** a **90**, marque na coluna correspondente da Folha de Respostas:

**V**, se a proposição é verdadeira;

**F**, se a proposição é falsa.

A resposta correta vale 1 (um); a resposta errada vale -1 (menos um); a ausência de marcação e a marcação dupla ou inadequada valem 0 (zero).

#### Questão 71

*Universal Serial Bus* ou USB é um tipo de conexão “Plug and Play” que permite a conexão de periféricos sem a necessidade de desligar o computador.

#### Questão 72

ASCII é um sistema de codificação usado pelos computadores para representar os caracteres alfabéticos, os algarismos, os sinais de pontuação e outros símbolos.

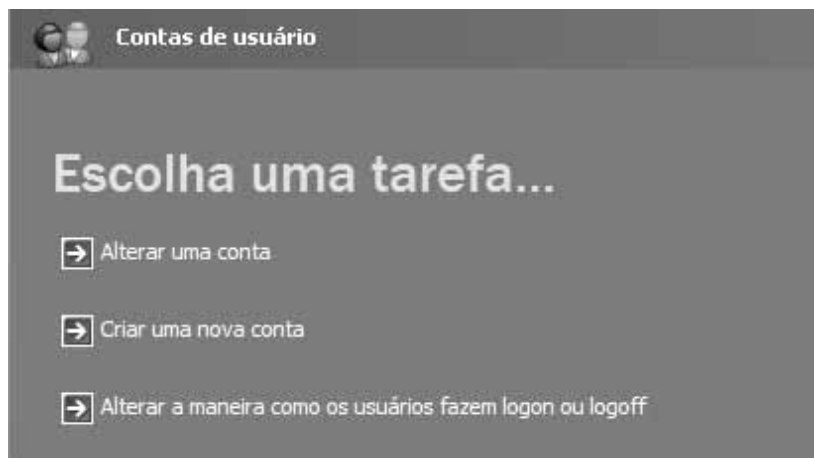
#### Questão 73

VPN é uma rede de comunicação privada, montada sobre uma rede pública, como a Internet, que pode utilizar protocolos de segurança para garantir confidencialidade, autenticação e integridade necessárias à privacidade das comunicações.

---

## QUESTÕES de 74 a 77

Para responder a essas questões, considere, no Windows XP, a opção “Contas de usuário”.



### Questão 74

Usando-se a opção “Alterar uma conta”, é possível modificar uma conta fazendo com que a conta alterada somente possa ser acessada pelo programa Internet Explorer.

### Questão 75

Ao se criar uma nova conta no Windows XP, ela pode ser do tipo “Administrador de Computador” ou “Limitada”.

### Questão 76

Apenas usuários com contas do tipo “Administrador de Computador” podem criar novas contas.

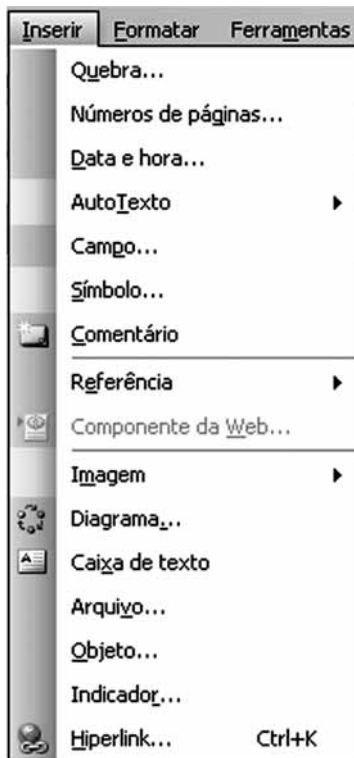
### Questão 77

Escolhendo-se a opção “Alterar a maneira como os usuários fazem logon ou logoff”, o usuário pode selecionar a opção de tela de boas-vindas e, dessa forma, impedir que outros usuários acessem o computador em questão.

---

## QUESTÕES de 78 a 81

Para responder a essas questões, considere a opção “Inserir” do MS-Word.




### Questão 78

A opção “Quebra...” permite inserir uma “Quebra de Página” no texto.

### Questão 79

Utilizando-se “AutoTexto”, pode-se transformar um áudio em texto através de OCR.

### Questão 80

Uma das maneiras de conseguir a digitação do texto:  é selecionar a opção “Figura” e, em seguida, escolher a opção “WordArt...”.

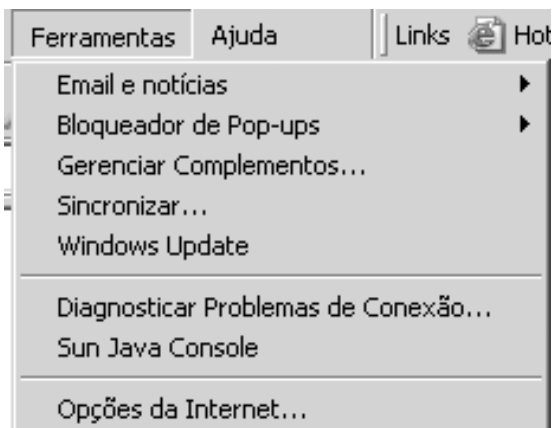
### Questão 81

Usando-se a opção “Objeto...”, pode-se incluir uma planilha do Excel no texto.

---

## QUESTÕES de 82 a 84

Essas questões se referem à opção “Ferramentas” da Internet Explorer.



### Questão 82

A opção “Bloqueador de Pop-ups” possibilita indicar quais os *sites* que terão suas janelas “pop-ups” permitidas, caso essa opção esteja habilitada.

### Questão 83

Selecionando-se “Windows Update”, o *browser* é direcionado para uma URL específica da Microsoft, onde pode ser encontrada uma atualização para sistema operacional.

### Questão 84

O item “Opções da Internet...” somente pode ser acessado por usuários que façam parte do grupo de administradores da rede onde o computador está conectado.

### Questão 85

HTTPS e HTTP são protocolos da Internet, sendo que a única diferença entre os dois está na velocidade, pois o HTTPS é duas vezes mais rápido do que o HTTP.

### Questão 86

No Windows XP, ao selecionar o menu “Acessórios” e, em seguida, “Ferramentas do Sistema”, encontra-se, dentre outras, as ferramentas “Backup”, “Desfragmentador de disco” e “Limpeza de disco”.

---

## Questão 87

A pasta “Dados”, localizada no disco C, do computador, ocupa 2300KB e, assim sendo, não pode ser copiada para um *pen drive* de apenas 1GB por falta de espaço.

## QUESTÕES 88 e 89

Essas questões referem-se à fórmula Excel “=SE(E4>6;SE(E5>8;“OK1”;“OK2”);“OK3”)”.

## Questão 88

Colocando-se o valor 7 na célula E4 e o valor 5, na E5, a célula com a fórmula dada será o valor “OK2”.

## Questão 89

A fórmula “=SE(E(E4>6;E5 >8);“OK2”;“OK3”)” é equivalente à fórmula apresentada.

## Questão 90

É possível formatar uma célula, no Excel, escolhendo-se a opção de menu “Formatar”, em seguida, o item “Célula” e, ao escolher a aba “Número”, pode-se optar, dentre outras, pelas categorias “Número”, “Data” ou “Porcentagem”, sendo que “Número” pode ser representado em Decimal ou Hexadecimal.

---

## PROVA DE MATEMÁTICA

### QUESTÕES de 91 a 100

#### INSTRUÇÃO:

Para cada questão, de **91** a **100**, marque na coluna correspondente da Folha de Respostas:

**V**, se a proposição é verdadeira;

**F**, se a proposição é falsa.

A resposta correta vale 1 (um); a resposta errada vale -1 (menos um); a ausência de marcação e a marcação dupla ou inadequada valem 0 (zero).

#### Questão 91

Operadoras	A	B	C	A e B	B e C	A e C
Número de assinantes	64	33	34	12	9	14

Se a tabela apresenta o resultado de uma pesquisa feita com 100 consumidores assinantes de, pelo menos, uma linha de celular, entre três operadoras, A, B e C, então pode-se concluir que quatro consumidores eram assinantes das três operadoras.

#### Questão 92

Em 1970, as reservas de petróleo brasileiro eram de 1 bilhão de barris, das quais 93% ficavam em terra. Em 2007, eram de 14 bilhões de barris, sendo 72% em mar.

Com base nessas informações, pode-se concluir que o crescimento das reservas, em mar, de 1970 a 2007, correspondeu a 143%.

---

### RASCUNHO



---

### Questão 93

Em uma indústria, o custo de fabricação de  $n$  cadeiras, em um dia, é dado pela lei  $C(n) = an + b$ , sendo  $a$  e  $b$  constantes reais.

Se, em um dia, o custo para se fabricarem 100 cadeiras é igual a R\$3200,00 e para 300 cadeiras é igual a R\$5400,00, então para serem fabricadas 200 cadeiras, nas mesmas condições, o custo será de R\$4300,00.

### Questão 94

Sabe-se que as funções oferta e demanda de um determinado produto são dadas, respectivamente, pelas expressões  $y = 2x + 5$  e  $y = -x + 14$ , sendo  $x$  a quantidade do produto, em milhares, e  $y$ , o preço, em real.

Portanto, o valor de  $x$  para o qual a oferta é igual à demanda pertence ao intervalo  $[4, 10]$ .

### Questão 95

Um chefe entregou à sua secretária a tarefa de digitar um relatório de 200 páginas no prazo de 8 dias. No primeiro dia, a secretária digitou 10 páginas e, a partir daí, digitou, em cada dia, tantas páginas quantas havia digitado no dia anterior, mais 4.

Nessas condições, pode-se concluir que a secretária cumpriu com a tarefa no prazo estipulado.

### Questão 96

Um casal saiu em férias da cidade A até a cidade B e resolveu que iria fazer o percurso em 10 dias, parando todos os dias para descansar, estabelecendo o seguinte plano de viagem: no primeiro dia, viajaria 1024km, no segundo, 512km, no terceiro, 256km e assim sucessivamente.

Com base nesses dados, pode-se concluir que a distância entre as cidades A e B é superior a 2040km.

---

## RASCUNHO

---

### Questão 97

Dois capitais,  $C_1$  e  $C_2$ , foram aplicados a juros simples de 1,5% e 2,0% ao mês, respectivamente.

Se, ao final de 5 meses, os juros produzidos por  $C_2$  foram iguais aos produzidos por  $C_1$  em 2 meses, então a razão entre  $C_1$  e  $C_2$  é igual a  $\frac{10}{3}$ .

### Questão 98

De cinco pessoas recém-aprovadas em concurso público para trabalhar em novo setor de uma instituição, uma será escolhida para chefiar o setor e outra, para ser assistente da chefia.

Supondo-se que todas as pessoas têm os mesmos requisitos para ocupar os dois cargos, conclui-se que essa escolha pode ser feita de 20 maneiras distintas.

### Questão 99

Em um concurso para selecionar técnicos de nível médio e superior, 60% dos aprovados foram mulheres.

Sabendo-se que 40% das mulheres e 50% dos homens tinham nível médio e sorteando-se, ao acaso, um dos aprovados, a probabilidade de sair um homem ou uma pessoa com nível superior é de 0,96.

### Questão 100

Número de filhos	Freqüência
01	02
02	04
03	04
04	05
05	03
06	02

A tabela representa a distribuição de freqüência do número de filhos de 20 famílias de uma comunidade.

Assim sendo, pode-se afirmar que a média do número de filhos dessas famílias corresponde a 3,45.

---

### RASCUNHO

---

## REFERÊNCIAS

### Questões 36 e 37

UNIVERSIDADE FEDERAL DA BAHIA. **Estatuto**. Aprovado pela Portaria do MEC nº 597, de 3 de maio de 2000.

### Questões de 46 a 48

PISCITELLI, R. B. et al. **Contabilidade pública**: uma abordagem da administração financeira pública. 5. ed. São Paulo: Atlas, 1997.

### Questão 63

MARTINS, R. Jeca Tatu, o retorno. Carta Capital, 13 jun. 2007. In: **Atualidades Vestibular**, São Paulo: Abril, 6. ed., 2008.

### Questão 66

EMERGENTES pressionam G-8 por alimentos. **DCI**: Diário Comércio Indústria & Serviços, São Paulo, ano VII, n. 1588, 9 jul. 2008.

### Questão 67

IRÃ diz que responde positivamente se EUA mudarem de postura. **O Estado de São Paulo**, São Paulo, 28 jul. 2008. Disponível em: <<http://www.estadao.com.br>>. Acesso em: 28 jul. 2008.

### Questão 69

OBAMA, B. Veja essa. **Veja**, São Paulo: Abril, ed. 2070, ano 41, n. 29, 23 jul. 2008.

## Fontes das ilustrações

### Questões de 31 a 33

SILVA, L. M. da. **Contabilidade governamental**: um enfoque administrativo. 7. ed. São Paulo: Atlas, 2008. p. 25.

### Questões de 38 a 40

\_\_\_\_\_. \_\_\_\_\_. p. 50.

### Questões de 53 a 55

\_\_\_\_\_. \_\_\_\_\_. p. 35. Adaptado.

### Questão 62

TACHO. Menor sem habilitação com bebida a bordo. Disponível em: <<http://www.chargeonline.com.br>>. Acesso em: 16 jul. 2008.



**Universidade Federal da Bahia**

**Direitos autorais reservados. Proibida a  
reprodução, ainda que parcial, sem autorização  
prévia da Universidade Federal da Bahia - UFBA**

---